



PREFEITURA MUNICIPAL DE RIBEIRÃO CORRENTE

DEPARTAMENTO DE EDUCAÇÃO

E.M.E.B. "JORNALISTA GRANDUQUE JOSÉ"

Rua Marechal Deodoro, 815 – Bairro Centro – Ribeirão Corrente - SP. CEP: 14445-000 - Fone: (16) 3749.1017

Ato de Criação: Lei Municipal Nº 986, de 20 de março de 2008

Email - granduquejose@educacao.sp.gov.br

ESTUDO EM CASA - DISTANCIAMENTO SOCIAL - COVID 19
ATIVIDADES DE Geografia – 7º ANO A,B,C
27ª SEMANA (30/08/21 a 03/09/21) – 3º Bimestre
Professoras: Juliana de Castro e Elisângela Castagine

Orientações:

- A atividade pode ser copiada no caderno ou impressa e colada.
- Leia o texto e os mapas com atenção para responder as questões.
- Devolutiva das atividades até o dia **10/09/21**.
- Não deixe de assistir as aulas online.

Gabarito 25ª Semana

- a) Centro-Oeste e Sul.
- b) Norte, Nordeste e Sudeste.
- c) Norte: 35.159
Centro-Oeste: - 136.590
Sul: -98.853
Nordeste: 187.869
Sudeste: 12.415
- d) Centro-Oeste.

POPULAÇÃO BRASILEIRA



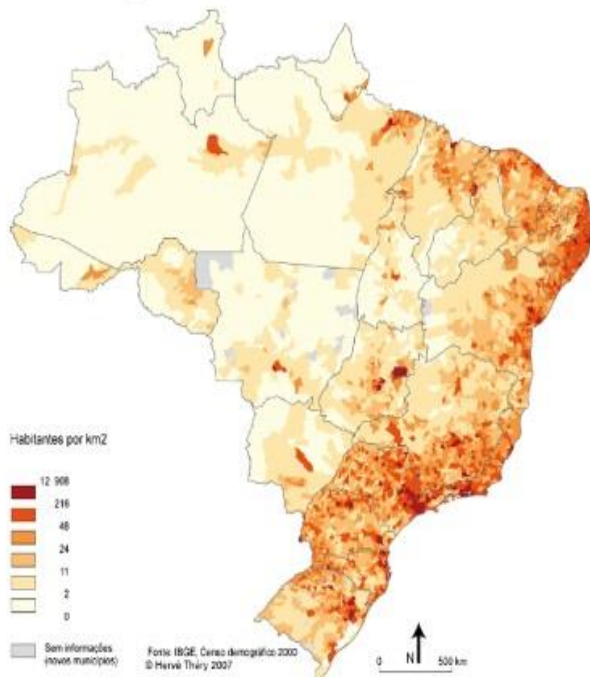
Fonte: Edson Ikê
Banco de imagens Nova Escola.

ASPECTOS DEMOGRÁFICOS E SOCIAIS

- ❖ Em 2017, a população absoluta do Brasil passava de 207 milhões de habitantes;
- ❖ Ela se distribui irregularmente pelo território.
- ❖ Para saber qual é a concentração de habitantes em determinada área, divide-se o número de pessoas pela medida dessa área.

DENSIDADE DEMOGRÁFICA

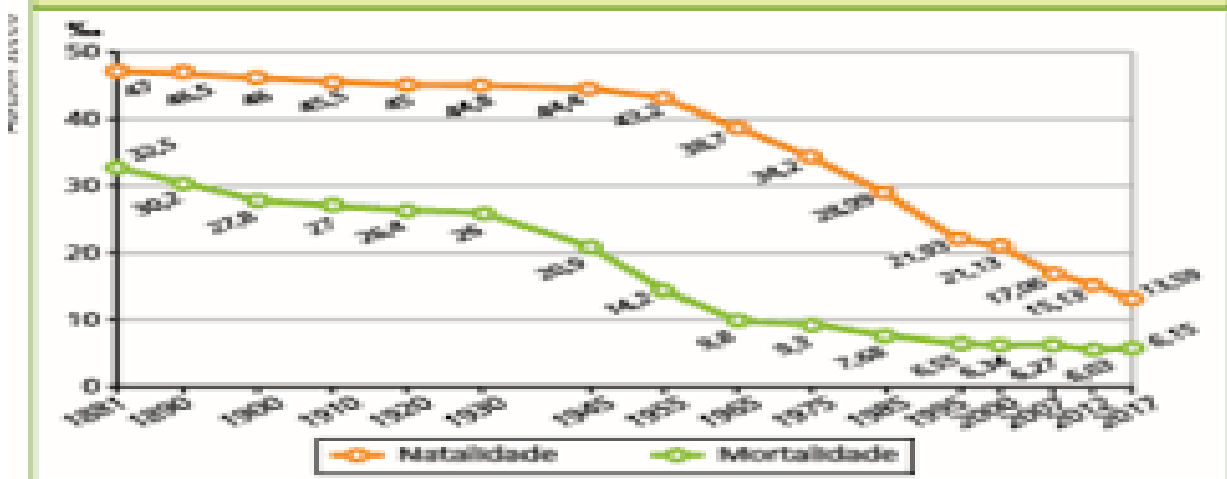
Densidade de povoamento



- ❖ O Brasil apresenta baixa densidade demográfica (cerca de 24 hab./km²).
- ❖ Apesar de possuir uma grande população absoluta, seu território é bastante extenso.
- ❖ É considerado, assim, um país pouco povoado.

Taxa de natalidade (TN): indica a número de nascimentos por mil habitantes no período de um ano. Taxa de mortalidade (TM): corresponde ao número de óbitos anuais, por mil hab.

BRASIL: TAXAS DE NATALIDADE E MORTALIDADE (1881-2017)



Análise socioeconômica da população

- ❖ O Brasil é um país que apresenta em seu território grandes disparidades **socioeconômicas**.
- ❖ Algumas áreas são mais privilegiadas por aspectos naturais e por políticas de investimento em infra estrutura.



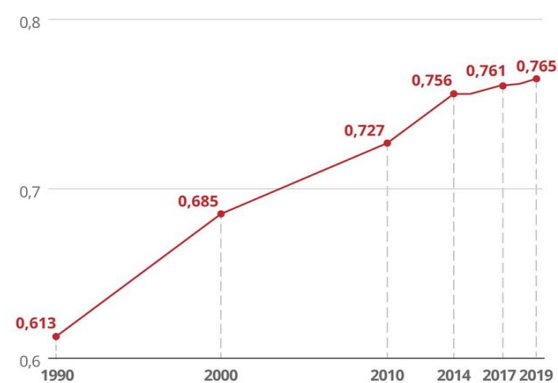
ÍNDICE DE DESENVOLVIMENTO HUMANO (IDH)

Os critérios utilizados para calcular o IDH são:

- ❖ renda per capita;
- ❖ expectativa de vida;
- ❖ grau de escolaridade.
- ❖ seu valor varia de 0 a 1.

A evolução do IDH do Brasil

Índice de Desenvolvimento Humano do Brasil variou de 0,613 a 0,765



Fonte: Pnud



Infográfico elaborado em: 15/12/2020

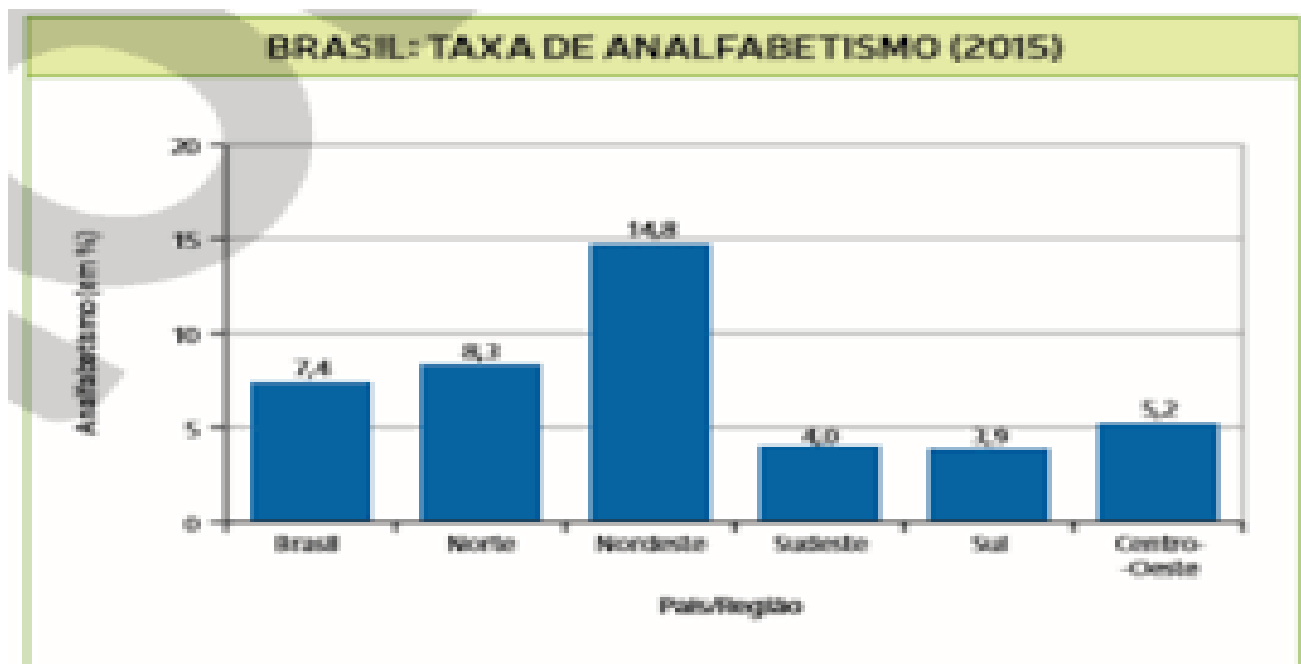
CRESCIMENTO POPULACIONAL EM QUEDA

- ❖ **popularização dos métodos anticoncepcionais;**
- ❖ **participação das mulheres no mercado de trabalho;**
- ❖ **planejamento familiar;**
- ❖ **diminuição da taxa de natalidade e fecundidade.**

Atividades: Leitura e análise de gráficos, textos e mapas temáticos.



- 1- Quais Unidades de Federação apresentavam em 2015 a maior e a menor expectativa de vida? Por que você acha que existe essa diferença?
- 2- Quais regiões brasileiras apresentam maiores e menores índices?



- 3- O ritmo de crescimento da população brasileira tem diminuído desde a década de 1.960. aponte dois fatores que contribuíram para a queda da taxa de natalidade no Brasil.
- 4- De acordo com o mapa densidade demográfica, caracterize a distribuição da população brasileira pelo território.
- 5- Analise a charge abaixo e escreva o que ela representa.

Charges do Censo 2010

